

**Утверждаю:**  
и.о. директора МАУДО  
СДЮТурЭ  
г. Новотроицк

\_\_\_\_\_ Т.В. Вихарева

## **ПОЛОЖЕНИЕ**

о городских соревнованиях  
по спортивному ориентированию бегом  
и семинаре спортивных судей

### **Общая информация**

Спортивные соревнования проводятся в соответствии с календарным планом СДЮТур Э. Проведение соревнований регламентировано Правилами вида спорта «Спортивное ориентирование», утвержденными приказом Минспорта России 03 мая 2017 г. № 403.

### **1. Цели и задачи**

Соревнования проводятся с целью:

- пропаганды здорового образа жизни, привлечения детей и подростков к регулярным занятиям физической культурой и спортом;
- популяризации спортивного ориентирования среди учащихся младшего и среднего школьного возраста, как доступного и интеллектуального вида спорта;
- повышения квалификации спортсменов и спортивных судей.

### **2. Время и место проведения, программа.**

Соревнования проводятся 31 марта 2018 года. Начало соревнований в 12 часов. Место старта спортплощадка СДЮТур.

Программа:

11:30 начало регистрации участников, 11:40 открытие соревнований,  
12:00 старт; 13:00 подведение итогов и семинар судей.

На контрольных пунктах будут использованы тестовые задания по условным знакам. При отметке КП в карточке необходимо указать правильный ответ. Дополнительная информация о дистанции, контрольном времени будет доведена до участников перед стартом.

Тестовые задания для занятий и правильные ответы в приложении.

### **3. Участники соревнований**

В соревнованиях принимают участие команды школ, «СДЮТур Э» и спортивных организаций МО г. Новотроицк, а так же команды из других городов и районов области в возрастных группах:

МЖ10 – 2009 и младше;

МЖ12 – 2007-2008 год рождения;

МЖ14 – 2005-2006 год рождения.

К участию допускаются спортсмены, прошедшие медицинский осмотр с предоставлением медицинской справки (заявки заверенной врачом).

### **4. Руководство и судейство соревнований**

Организаторами соревнований является управление образования МО г. Новотроицк. Проводящая организация - МАУДО СДЮТур Э, непосредственное проведение соревнований осуществляет судейская коллегия в составе:

главный судья Н.Л. Канишева СС1К;

начальник дистанций П.В. Козлов СС1К;

главный секретарь Е.В. Махова;

судья – хронометрист А.В. Бондаренко СС2К

судьи на старте и финише представители команд и юные судьи, участвующие в семинаре.

### **5. Порядок стартов и подведение результатов**

Дистанция - спринт, заданное направление. Порядок старта - согласно стартового протокола составленного на основании предварительных заявок. Участники не подавшие своевременно заявку стартуют последними или во время указанное судьей на старте. Стартовый интервал 1 минута.

Личные места определяются по времени прохождения дистанции. Командные - по сумме мест лучших результатов (1 девушка+1 юноша) в каждой возрастной группе.

### **6. Награждение**

Победители и призеры в личном зачете, команды в каждой возрастной группе награждаются грамотами и дипломами.

### **7. Заявки**


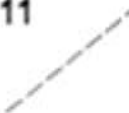








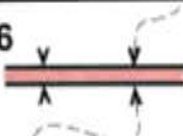

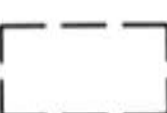







**Предварительные заявки на участие в соревнованиях и семинаре подаются на сайте: <http://orgeo.ru/event/8891> до 15:00 30.03.2019** (по всем вопросам обращаться к Козлову Павлу Владимировичу в «Viber» по телефону - 89619166782, электронная почта: p.v.kozlov@yandex.ru).

Письменные заявки, заверенные врачом и справки, сдать секретарю судейской коллегии за 30 минут до начала стартов.



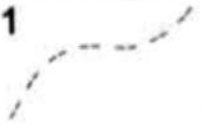



















## Тест 1

### Что означает этот символ?

1		<ul style="list-style-type: none"> <li>а) улучшенная дорога</li> <li>б) непреодолимая река</li> <li>в) тропа</li> </ul>	11		<ul style="list-style-type: none"> <li>а) канава с водой</li> <li>б) проселочная дорога</li> <li>в) узкая просека</li> </ul>
2		<ul style="list-style-type: none"> <li>а) земляной вал</li> <li>б) разрушенная каменная стена</li> <li>в) сухая канава</li> </ul>	12		<ul style="list-style-type: none"> <li>а) яма</li> <li>б) лощина</li> <li>в) гора</li> </ul>
3		<ul style="list-style-type: none"> <li>а) немасштабный объект рельефа</li> <li>б) воронка</li> <li>в) микробугорок</li> </ul>	13		<ul style="list-style-type: none"> <li>а) земляной обрыв</li> <li>б) земляной вал</li> <li>в) основная горизонталь</li> </ul>
4		<ul style="list-style-type: none"> <li>а) фруктовый сад</li> <li>б) открытое пространство</li> <li>в) лес, проходимый в одном направлении</li> </ul>	14		<ul style="list-style-type: none"> <li>а) озеро</li> <li>б) запретная территория</li> <li>в) непреодолимое болото</li> </ul>
5		<ul style="list-style-type: none"> <li>а) заболоченность</li> <li>б) непреодолимое болото</li> <li>в) труднопреодолимое болото</li> </ul>	15		<ul style="list-style-type: none"> <li>а) сухая канава</li> <li>б) тропа</li> <li>в) маленькая промосина</li> </ul>
6		<ul style="list-style-type: none"> <li>а) трубопровод</li> <li>б) мост</li> <li>в) туннель</li> </ul>	16		<ul style="list-style-type: none"> <li>а) проход в ограде</li> <li>б) каменная стена</li> <li>в) непреодолимая ограда</li> </ul>
7		<ul style="list-style-type: none"> <li>а) фундамент</li> <li>б) постройка</li> <li>в) застроенная территория</li> </ul>	17		<ul style="list-style-type: none"> <li>а) стрельбище</li> <li>б) кормушка</li> <li>в) стрелка магнитного меридиана</li> </ul>
8		<ul style="list-style-type: none"> <li>а) большая башня</li> <li>б) церковь</li> <li>в) маленькая башня</li> </ul>	18		<ul style="list-style-type: none"> <li>а) немасштабный искусственный объект</li> <li>б) финиш</li> <li>в) точка начала ориентирования</li> </ul>
9		<ul style="list-style-type: none"> <li>а) туннель</li> <li>б) переправа с мостом</li> <li>в) переправа без моста</li> </ul>	19		<ul style="list-style-type: none"> <li>а) каменная россыпь</li> <li>б) сухая канава</li> <li>в) поверхность с микронеровностями</li> </ul>
10		<ul style="list-style-type: none"> <li>а) непригодная для движения дорога</li> <li>б) непреодолеваемая граница</li> <li>в) маркированный участок</li> </ul>	20		<ul style="list-style-type: none"> <li>а) промосина</li> <li>б) микроямка</li> <li>в) лощина</li> </ul>

## Тест 2





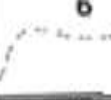











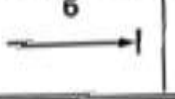








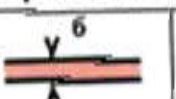










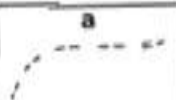
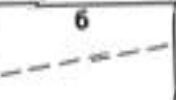
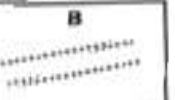








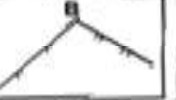












### Что означает этот символ?

1		а) шоссе б) исчезающая тропа в) улучшенная дорога	11		а) железная дорога б) преодолимый трубопровод в) каменная стена
2		а) узкая просека б) река в) широкая заросшая просека	12		а) лощина б) обрыв в) яма
3		а) группа камней б) пещера в) микробугорок	13		а) открытое пространство б) полукрытое пространство в) труднопроходимая растительность
4		а) четкая граница растительности б) пересыхающий ручей в) сухая канава	14		а) колодец б) пруд в) родник
5		а) канава б) ручей в) река	15		а) озеро б) непреодолимое болото в) болото
6		а) болото б) непреодолимое болото в) заболоченность	16		а) преодолимая ограда б) разрушенная ограда в) непреодолимая ограда
7		а) фундамент б) постройка в) застроенная территория	17		а) стрелка магнитного меридиана б) стрельбище в) кормушка
8		а) шоссе б) проселочная дорога в) улучшенная дорога	18		а) земляной вал б) промоина в) земляной обрыв
9		а) внемасштабный искусственный объект б) маленькая башня в) большая башня	19		а) мостик б) переправа с мостом в) переправа без моста
10		а) непригодная для движения дорога б) опасная территория в) маркированный участок	20		а) контрольный пункт б) пункт питания в) финиш



## Тест 3

















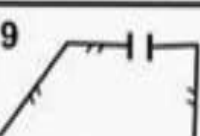


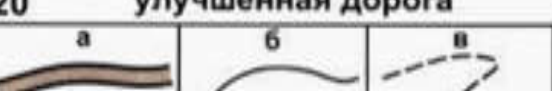
Подберите символ.

1	лощина	а 	б 	в 
11	улучшенная дорога	а 	б 	в 
2	ручей	а 	б 	в 
12	железная дорога	а 	б 	в 
3	труднопроходимое болото	а 	б 	в 
13	электролиния	а 	б 	в 
4	камень	а 	б 	в 
14	непреодолимая ограда	а 	б 	в 
5	переправа с мостом	а 	б 	в 
15	высокая башня	а 	б 	в 
6	воронка	а 	б 	в 
16	начало ориентирования	а 	б 	в 
7	узкая просека	а 	б 	в 
17	опасная территория	а 	б 	в 
8	колодец	а 	б 	в 
18	непреодолимый трубопровод	а 	б 	в 
9	открытое пространство	а 	б 	в 
19	развалины	а 	б 	в 
10	лес, пробегаемый в одном направлении	а 	б 	в 
20	гора	а 	б 	в 

## Тест 4

**Что означает этот символ?**

**Подберите символ.**

<p><b>1</b></p>  <p>а) ручей б) канава в) тропа</p>	<p><b>11</b> <span style="float: right;">яма</span></p> 
<p><b>2</b></p>  <p>а) непреодолимая скальная стена б) земляной вал в) обрыв</p>	<p><b>12</b> <span style="float: right;">исчезающая тропа</span></p> 
<p><b>3</b></p>  <p>а) узкая просека б) шоссе в) широкая открытая просека</p>	<p><b>13</b> <span style="float: right;">постройка</span></p> 
<p><b>4</b></p>  <p>а) преодолимая каменная стена б) непреодолимая каменная стена в) преодолимая скальная стена</p>	<p><b>14</b> <span style="float: right;">сухая канава</span></p> 
<p><b>5</b></p>  <p>а) непреодолимая ограда б) преодолимая ограда в) преодолимый трубопровод</p>	<p><b>15</b> <span style="float: right;">узкая заросшая просека</span></p> 
<p><b>6</b></p>  <p>а) труднопреодолимое болото б) непреодолимое болото в) заболоченность</p>	<p><b>16</b> <span style="float: right;">внемасштабный объект рельефа</span></p> 
<p><b>7</b></p>  <p>а) проселочная дорога б) улучшенная дорога в) узкая просека</p>	<p><b>17</b> <span style="float: right;">поверхность с микронеровностями</span></p> 
<p><b>8</b></p>  <p>а) горка б) контрольный пункт в) финиш</p>	<p><b>18</b> <span style="float: right;">заболоченность</span></p> 
<p><b>9</b></p>  <p>а) развалины б) преодолимая ограда в) проход в ограде</p>	<p><b>19</b> <span style="float: right;">полуоткрытое пространство</span></p> 
<p><b>10</b></p>  <p>а) стрелка магнитного Меридиана б) кормушка в) стрельбище</p>	<p><b>20</b> <span style="float: right;">улучшенная дорога</span></p> 

## Тест 5

*Какой УЗ относится к рельефу?*

1	а 	б 	в 
2	а 	б 	в 
3	а 	б 	в 
4	а 	б 	в 
5	а 	б 	в 

*Какой УЗ относится к растительности?*

11	а 	б 	в 
12	а 	б 	в 
13	а 	б 	в 
14	а 	б 	в 
15	а 	б 	в 

*Какой УЗ относится к гидрографии?*

6	а 	б 	в 
7	а 	б 	в 
8	а 	б 	в 
9	а 	б 	в 
10	а 	б 	в 
















*Какой УЗ относится к искусственным сооружениям?*

16	а 	б 	в 
17	а 	б 	в 
18	а 	б 	в 
19	а 	б 	в 
20	а 	б 	в 


















## Тест 6













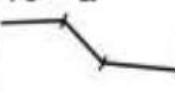


*Какой УЗ относится к знаку обозначения дистанции?*

1 а 	б 	в 
2 а 	б 	в 
3 а 	б 	в 
4 а 	б 	в 
5 а 	б 	в 
















*Какой УЗ относится к площадным ориентирам?*

11 а 	б 	в 
12 а 	б 	в 
13 а 	б 	в 
14 а 	б 	в 
15 а 	б 	в 

*Какой УЗ относится к линейным ориентирам?*



































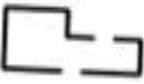















6 а 	б 	в 
7 а 	б 	в 
8 а 	б 	в 
9 а 	б 	в 
10 а 	б 	в 

*Какой УЗ относится к точечным ориентирам?*

16 а 	б 	в 
17 а 	б 	в 
18 а 	б 	в 
19 а 	б 	в 
20 а 	б 	в 

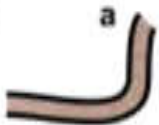




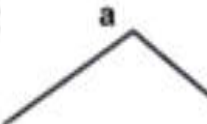
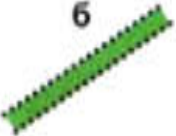































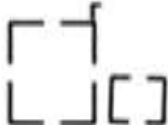











## Тест 7

Исключите лишний знак.

1	а 	б 	в 	г 	д 
2	а 	б 	в 	г 	д 
3	а 	б 	в 	г 	д 
4	а 	б 	в 	г 	д 
5	а 	б 	в 	г 	д 
6	а 	б 	в 	г 	д 
7	а 	б 	в 	г 	д 
8	а 	б 	в 	г 	д 
9	а 	б 	в 	г 	д 
10	а 	б 	в 	г 	д 
















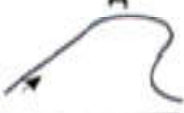
















# Тест 8

Исключите лишний знак.

1					
2					
3					
4					
5					
6					
7					
8					
9					
10					

## Тест 9



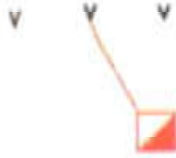


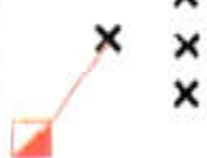
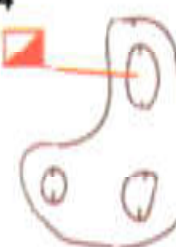


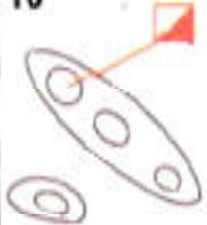
Исключите лишний ориентир.

1	а v	б v	в ●	г X	д 
2	а 	б O	в 	г 	д 
3	а 	б 	в 	г 	д 
4	а x	б 	в e	г т	д o
5	а 	б 	в 	г 	д 
6	а ●	б ●	в v	г 	д o
7	а 	б 	в x	г 	д 
8	а 	б 	в 	г 	д 
9	а O	б T	в 	г x	д т
10	а 	б 	в 	г 	д 



## Тест 10












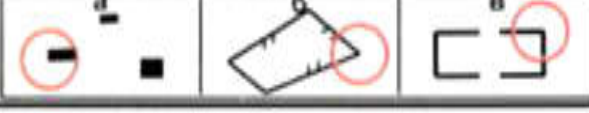





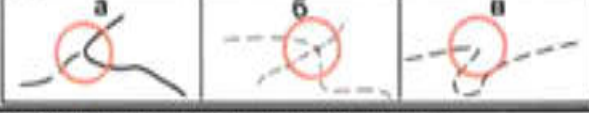


### Где стоит контрольный пункт?

<p><b>1</b></p>  <p>а) восточная полянка б) северная полянка в) южная полянка</p>	<p><b>6</b></p>  <p>а) западная ямка б) восточная горка в) западная горка</p>
<p><b>2</b></p>  <p>а) средняя ямка б) средняя воронка в) восточная воронка</p>	<p><b>7</b></p>  <p>а) юго-западная постройка б) юго-западный угол дома в) юго-восточный угол дома</p>
<p><b>3</b></p>  <p>а) западный микробугорок б) западный камень в) восточный микробугорок</p>	<p><b>8</b></p>  <p>а) средний внемасштабный искусственный объект б) западный внемасштабный искусственный объект в) восточный внемасштабный искусственный объект</p>
<p><b>4</b></p>  <p>а) южная яма б) западная яма в) северная яма</p>	<p><b>9</b></p>  <p>а) юго-западный камень б) юго-восточный микробугорок в) юго-восточный камень</p>
<p><b>5</b></p>  <p>а) восточное болото б) западный край болота в) восточный край болота</p>	<p><b>10</b></p>  <p>а) северо-восточная горка б) северо-западный край горы в) северо-западная горка</p>

## Тест 11

**Что означает этот символ?**




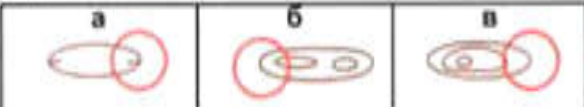





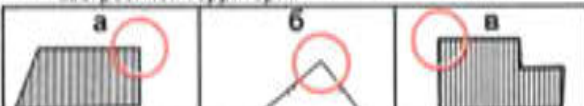
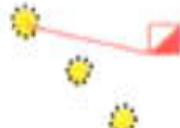
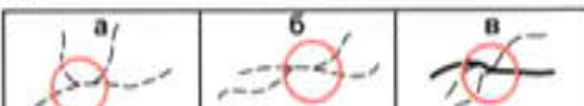








**Где находится КП?**

<p><b>1</b></p>  <p>а) нечеткая канава с водой б) проселочная дорога в) исчезающая тропа</p>	<p><b>11</b> Какой КП находится на пересечении тропинок?</p> 
<p><b>2</b></p>  <p>а) канава б) непреодолимая река в) ручей</p>	<p><b>12</b> Какой КП находится на стыке канав?</p> 
<p><b>3</b></p>  <p>а) выступ горы б) промоина в) лощина</p>	<p><b>13</b> Какой КП находится на развилке дорог?</p> 
<p><b>4</b></p>  <p>а) открытая узкая просека б) шоссе в) широкая открытая просека</p>	<p><b>14</b> Какой КП находится на изгибе ручья?</p> 
<p><b>5</b></p>  <p>а) заболоченность б) болото в) непреодолимое болото</p>	<p><b>15</b> Какой КП находится в конце просеки?</p> 
<p><b>6</b></p>  <p>а) камень б) группа камней в) каменная россыпь</p>	<p><b>16</b> Какой КП находится у дома?</p> 
<p><b>7</b></p>  <p>а) воронка б) яма в) маленькая яма</p>	<p><b>17</b> Какой КП находится у камня?</p> 
<p><b>8</b></p>  <p>а) улучшенная дорога б) проселочная дорога в) узкая просека</p>	<p><b>18</b> Какой КП находится у туннеля?</p> 
<p><b>9</b></p>  <p>а) скальная воронка б) пещера в) камень</p>	<p><b>19</b> Какой КП находится на повороте дороги?</p> 
<p><b>10</b></p>  <p>а) поселок б) запретная территория для бега в) труднопреодолимое болото</p>	<p><b>20</b> Какой КП находится у кормушки?</p> 

## Тест 12

### На чем стоит КП?

### Где находится КП?

<p><b>1</b></p>  <p>а) восточный камень б) западный камень в) восточная группа камней</p>	<p><b>11</b> Какой КП находится на западном углу непреодолимой ограды?</p> 
<p><b>2</b></p>  <p>а) юго-восточная воронка б) юго-западная ямка в) юго-западная воронка</p>	<p><b>12</b> Какой КП находится у восточного подножия?</p> 
<p><b>3</b></p>  <p>а) восточная горка б) западная горка в) западная яма</p>	<p><b>13</b> Какой КП находится на юго-восточном краю непреодолимого болота?</p> 
<p><b>4</b></p>  <p>а) южное болотце б) южный край болота в) северное болотце</p>	<p><b>14</b> Какой КП находится на северном углу фруктового сада?</p> 
<p><b>5</b></p>  <p>а) северо-западная немасштабная яма б) северо-восточная немасштабная яма в) северо-восточная воронка</p>	<p><b>15</b> Какой КП находится на северо-восточном углу застроенной территории?</p> 
<p><b>6</b></p>  <p>а) северо-западный край поляны б) северо-восточная полянка в) северо-западная полянка</p>	<p><b>16</b> Какой КП находится на восточной развилке тропинок?</p> 
<p><b>7</b></p>  <p>а) юго-восточная группа деревьев б) юго-западная группа деревьев в) юго-восточный родник</p>	<p><b>17</b> Какой КП находится на северо-западном углу поляны?</p> 
<p><b>8</b></p>  <p>а) южная горка б) северная ямка в) южная ямка</p>	<p><b>18</b> Какой КП находится на юго-западном углу дома?</p> 
<p><b>9</b></p>  <p>а) средняя немасштабная яма б) западная немасштабная яма в) западная воронка</p>	<p><b>19</b> Какой КП находится на южном краю озера?</p> 
<p><b>10</b></p>  <p>а) средняя немасштабный искусственный объект б) средняя группа камней в) восточный немасштабный искусственный объект</p>	<p><b>20</b> Какой КП находится на северо-восточном краю ямы?</p> 



## Тест 13

*Подберите к описанию один из КП.*

<p><b>1</b> Какой КП находится на северном пересечении троп?</p> <p>а                      б                      в</p>	<p><b>6</b> Какой КП находится в юго-западной воронке?</p> <p>а                      б                      в</p>
<p><b>2</b> Какой КП стоит на среднем камне?</p> <p>а                      б                      в</p>	<p><b>7</b> Какой КП стоит на западном болотце?</p> <p>а                      б                      в</p>
<p><b>3</b> Какой КП стоит на южной развилке дорог?</p> <p>а                      б                      в</p>	<p><b>8</b> Какой КП стоит на северной ложине?</p> <p>а                      б                      в</p>
<p><b>4</b> Какой КП стоит на северо-восточной горке?</p> <p>а                      б                      в</p>	<p><b>9</b> Какой КП стоит на северо-восточной поляне?</p> <p>а                      б                      в</p>
<p><b>5</b> Какой КП стоит на юго-западном островке труднопроходимого леса?</p> <p>а                      б                      в</p>	<p><b>10</b> Какой КП стоит у восточной постройки?</p> <p>а                      б                      в</p>



## Тест 14

*Какой КП стоит неправильно?*

*Какой КП стоит правильно?*

<p><b>1</b>    а                    б                    в</p>	<p><b>6</b>    а                    б                    в</p>	
<p><b>2</b>    а                    б                    в</p>	<p><b>7</b>    а                    б                    в</p>	
<p><b>3</b>    а                    б                    в</p>	<p><b>8</b>    а                    б                    в</p>	
<p><b>4</b>    а                    б                    в</p>	<p><b>9</b>    а                    б                    в</p>	
<p><b>5</b>    а                    б                    в</p>	<p><b>10</b>    а                    б                    в</p>	